



3.1. Мерење

Име и презиме ученика : _____

1. На слици је приказан ексер између два блока.. Одредити дужину ексера .

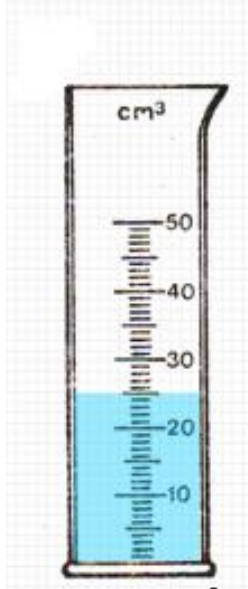


а) Дужина ексера: _____ cm




б) Дужина ексера: _____ cm

2. Одредити вредност једног подеока на мензурама. Колика је запремина течности у мензури ?



а) Вредност једног подеока _____
Запремина течности _____



б) Вредност једног подеока _____
Запремина течности _____

3. Одредити вредност једног подеока на мензурама.



1



2



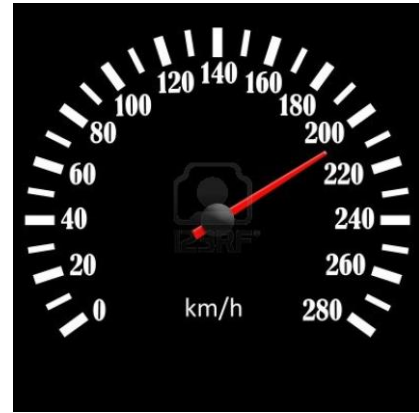
3



4


Вредност једног подеока _____

4. Које брзине показују брзиномери ?

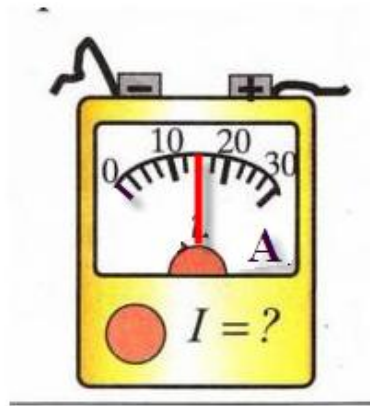


Одговор : _____

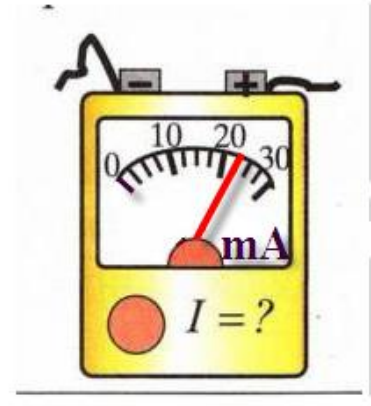
5. Одредити вредност једног подеока амперметра на сликама. Колику јачину струје приказују казаљке ?



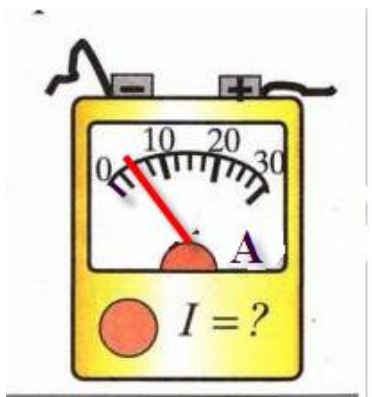
а) Вредност једног подеока _____
Јачина струје _____



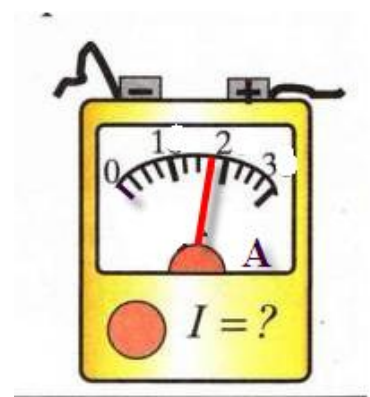
б) Вредност једног подеока _____
Јачина струје _____



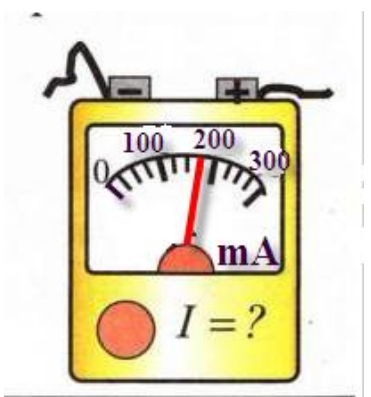
в) Вредност једног подеока _____
Јачина струје _____



г) Вредност једног подеока _____
Јачина струје _____



ђ) Вредност једног подеока _____
Јачина струје _____



и) Вредност једног подеока _____
Јачина струје _____